

Fach:	Mathematik	Klasse:	5ab	Lehrer/in:	Frau Grewe, Herr Knecht
Bei Fragen folgenden Kontaktweg wählen:			grewebarbara@aol.com , bernd.knecht204@web.de		

Arbeitsauftrag 18.5. – 24.5.	Erledigt	Datum	Unterschrift: Erziehungsberechtigte(r)
Liebe Schülerinnen und Schüler, jetzt kommen wir zu einem ganz neuen Thema, nämlich die <i>Brüche</i> .			
1 Schau die dazu bitte das folgende Lernvideo Brüche und Bruchteile an.	<input type="checkbox"/>		
2 Schau dir nun das 2. Lernvideo Brüche und Bruchteile erkennen an.	<input type="checkbox"/>		
3 Bearbeite die beiden Arbeitsblätter	<input type="checkbox"/>		
4 Bearbeite im Arbeitsheft S. 50 das Grundwissen (blaues Feld) und die Aufgabe 1.	<input type="checkbox"/>		

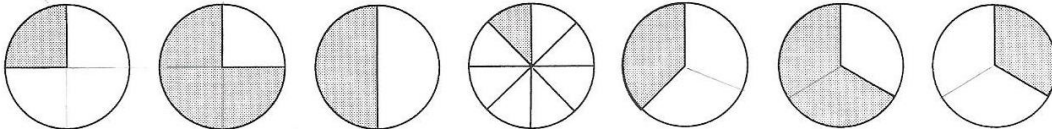
Liebe Schülerinnen und Schüler,

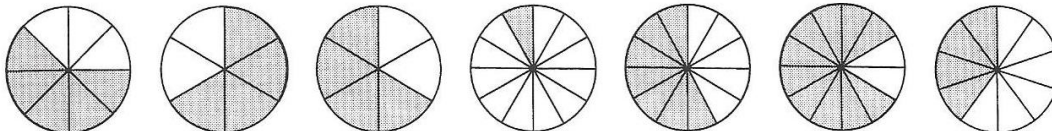
nutzt das Lernangebot. In den letzten drei Spalten macht ihr eine Selbstkontrolle.

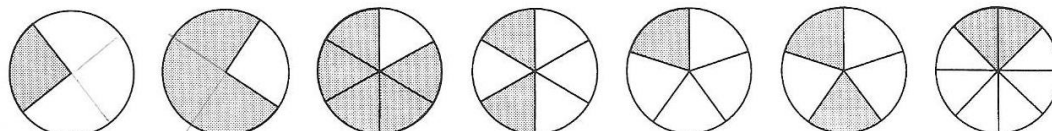
Lasst eure Eltern bestätigen, dass ihr die Aufgaben erledigt habt.

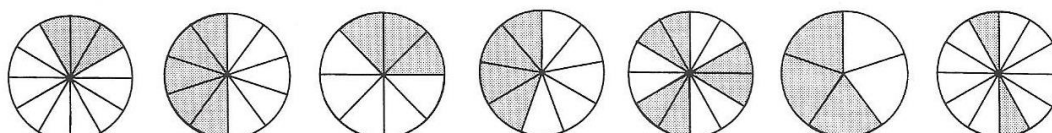
Ihr schafft das! Bei Fragen oder Problemen könnt ihr Euch an die entsprechende Lehrkraft wenden – wir helfen gerne. Vernetzt Euch untereinander und beachtet die Maßnahmen zur Eindämmung der Viruserkrankung.

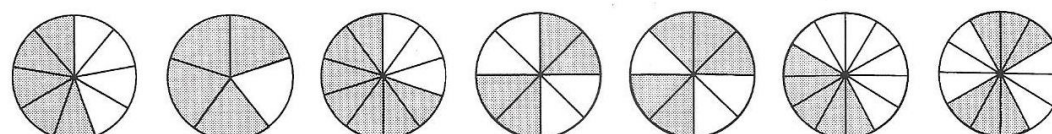
Eure Schule

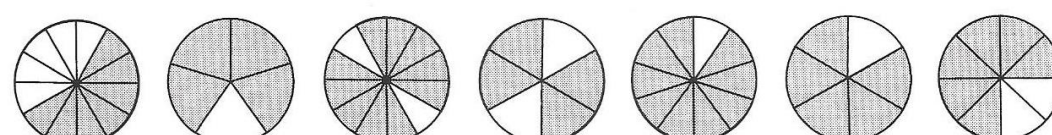
① 
 $\frac{1}{4}$ — — — — — —

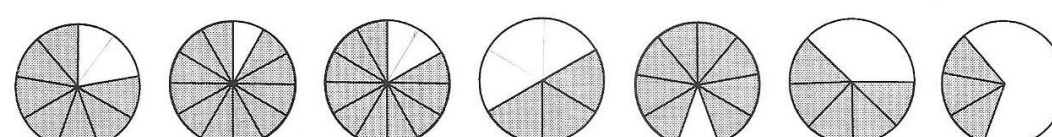
② 
 $\frac{\square}{8}$ — — — — — —

③ 
 $\frac{1}{\square}$ — — — — — —

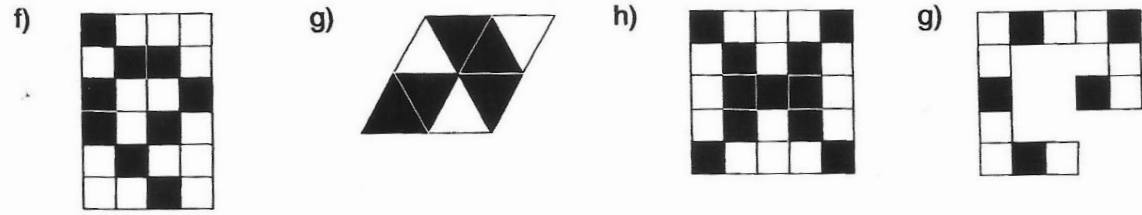
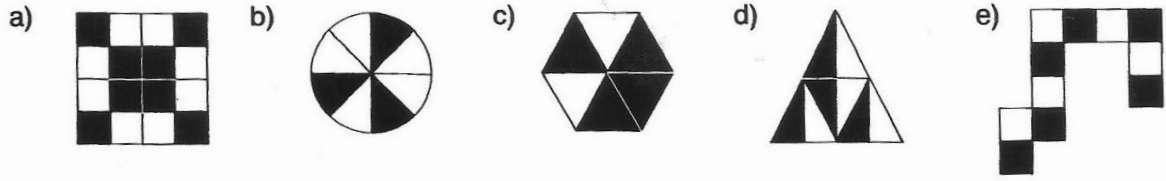
④ 
 $\frac{3}{\square}$ — — — — — —

⑤ 
 — — — — — — —



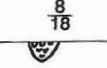
⑥ 
 — — — — — — —

⑦ 
 — — — — — — —

1. Welche Bruchteile sind schwarz?



Male die Lösungsfelder an. Wie lautet das Lösungswort?

<p>24</p> <p>$\frac{3}{9}$ 6</p>	<p>$\frac{4}{9}$</p> <p></p> <p>$\frac{5}{8}$ $\frac{8}{16}$</p>	<p>$\frac{6}{12}$</p> <p></p> <p>$\frac{5}{14}$</p>	<p>8</p> <p>$\frac{4}{8}$ $\frac{11}{25}$</p>
<p>30</p> <p>7 $\frac{5}{13}$</p> <p>$\frac{11}{24}$</p>	<p>$\frac{8}{18}$</p> <p></p> <p>$\frac{3}{8}$</p>	<p>$\frac{4}{6}$</p> <p>$\frac{9}{24}$ $\frac{4}{7}$</p>	<p>4</p> <p>$\frac{6}{11}$</p>